




5013CH12

12

دائرؤں سے متعلق رقبہ (AREAS RELATED TO CIRCLES)

12.1 تعارف

چھپلی کلاسوں میں مستوی اشکال جیسے، مستطیل، مربع، متوازی الاضلاع، مثلث اور دائروں وغیرہ کے احاطہ اور رقبہ معلوم کرنے کے طریقوں سے آپ پہلے ہی واقف ہیں۔ روزمرہ کی زندگی میں ایسی بہت سے اشیا نظر سے گزرتی ہیں جو کسی نہ کسی صورت میں دائروں سے متعلق ہوتی ہیں۔ سائیکل کے پہیہ، ٹھیلہ، گول کیک، ڈارٹ بورڈ، پاپڑ، نالوں کے ڈھکن، مختلف قسم کی چوڑیاں، دائری راستہ، بُروچ (Brooches) واشر، پھولوں کی کاریاں وغیرہ۔ ایسی اشیا کی کچھ مثالیں ہیں (شکل 12.1 دیکھیے) اس لئے دائروں سے متعلق اشکال کے احاطہ اور رقبہ معلوم کرنے کے مسئلہ کی بڑی اہمیت ہے۔ اس باب میں ہم سب سے پہلے دائرہ کا احاطہ (محیط) اور جس تصور پر نظر ثانی کریں گے اور اس جانکاری کا اتصال دائری خطہ (یا مختصراً دائرہ) کے دو مخصوص حصہ جو بسکٹ اور اور قطع کے طور پر جانے جاتے ہیں، کے رقبہ معلوم کرنے کے لئے کریں گے۔ اب ہم دیکھیں گے کہ کس طرح سے ہم مستوی اشکال جس میں دائرہ ابھی شامل ہوں، یا ان کے حصہ کے رقبہ کس طرح معلوم کئے جائیں۔



شکل 12.1

12.2 دائرہ کا محیط اور رقبہ — ایک نظر ثانی

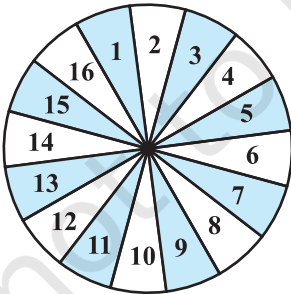
یاد کیجئے دائرے کے کرد ایک چکر لگانے میں جو فاصلہ کرنا پڑتا ہے وہ اس کا احاطہ کہلاتا ہے جس کو عام طور پر محیط کہتے ہیں، پچھلی کلاسوں سے آپ یہ بھی جانتے ہیں کہ دائرہ کے محیط کی اس کے قطر سے ایک مستقل نسبت ہوتی ہے۔ اس مستقل نسبت کو ہم ایک یونانی حرف π (پڑھتے ہیں پائی) سے ظاہر کرتے ہیں۔ دوسرے لفظوں میں

$$\pi = \frac{\text{محیط}}{\text{قطر}}$$

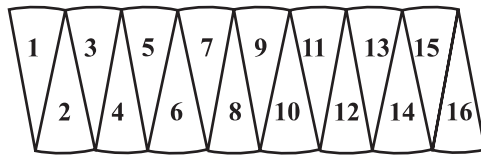
$$\begin{aligned} \pi \times \text{قطر} &= \text{محیط} \\ &= \pi \times 2r \text{ (جہاں } r \text{ دائرہ کا نصف قطر ہے)} \\ &= 2\pi r \end{aligned}$$

ایک عظیم ہندوستانی ریاضی داں آریہ بھٹ (550-476 عیسوی میں) نے π کی ایک تقریبی قدر دی۔ اس نے کہا کہ $\pi = \frac{62832}{20000}$ ، جو کہ تقریباً 3.1416 کے برابر ہے۔ نوٹ کرنے کے لئے ایک دلچسپ بات یہ ہے کہ ایک عظیم ہندوستانی ریاضی داں سری نواس رامانوجن (1887-1920) کے ایک مماثلہ (Identity) کو استعمال کرتے ہوئے دیگر ریاضی دانوں نے π کی قدر اعشاریہ کے بلین مقام تک معلوم کی ہے۔ جیسا کہ آپ نے نویں کلاس کے باب 1 میں پڑھا تھا کہ π ایک غیر ناطق عدد ہے اور اس کا عشری پھیلاؤ غیر مختتم اور غیر تکراری ہے۔ لیکن پریکٹیکل کے مقصد کے لئے عمومی طور پر ہم π کی قدر $\frac{22}{7}$ یا (3.14) تقریباً لیتے ہیں۔

آپ کو معلوم ہے کہ دائرہ کا رقبہ πr^2 ہوتا ہے جہاں r ، دائرہ کا نصف قطر ہے۔ یاد کیجئے آپ نے ساتویں کلاس میں آپ



(i)



(ii)

شکل 12.2

آپ نے اپنے ایک دائرے کو بہت سے سیکڑوں میں کاٹ کر دوبارہ ترتیب دیا تھا جیسا کہ شکل 12.2 میں دکھایا گیا ہے۔

آپ دیکھ سکتے ہیں کہ شکل 12.2(ii) کی شکل تقریباً ایک مستطیل کی سی ہے جس کی لمبائی $2\pi r$ اور چوڑائی $\frac{1}{2}$ ہے۔ جس سے پتہ چلتا ہے کہ دائرہ کا رقبہ $= \pi r^2 = 2\pi r \times \frac{1}{2}$ ۔ آئیے کچھلی کلاسوں میں سیکھے گئے تصور کو کچھ مثالوں سے دہراتے ہیں۔

مثال 1: ایک دائری میدان کے چاروں طرف باڑ لگانے کا خرچ 24 روپے فی میٹر کی شرح سے 52.80 روپے ہے میدان میں 0.50 روپے فی مربع میٹر کی شرح سے ہل چلانا ہے۔ میدان میں ہل چلانے کا خرچ معلوم کیجیے۔ ($\pi = \frac{22}{7}$ لیجیے)

$$\text{حل: باڑھ کی لمبائی میٹروں میں} = \frac{\text{کل خرچ}}{\text{شرح}} = \frac{5280}{24} = 220$$

اس لئے میدان کا محیط = 220 میٹر

اس لئے، اگر میدان کا نصف قطر r میٹر ہے تب $2\pi r = 220$

$$\text{یا } 2 \times \frac{22}{7} \times r = 220$$

$$\text{یا } r = \frac{220 \times 7}{2 \times 22} = 35$$

یعنی میدان کا نصف قطر 35 میٹر ہے۔

$$\text{اس لئے میدان کا رقبہ} = \text{مربع میٹر } 35 \times 35 = 22 \times 5 \times 35 = \text{مربع میٹر } 35 \times \frac{22}{7}$$

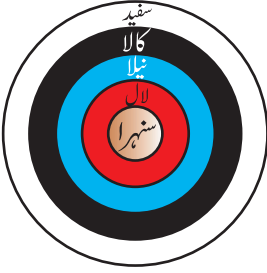
اب مربع میٹر میدان پر ہل چلانے کا خرچ = 0.50 روپے

$$\text{اس لئے میدان میں ہل چلانے کا کل خرچ} = 22 \times 5 \times 35 \times 0.5 = 1925 \text{ روپے}$$

مشق 12.1

جب تک کچھ اور نہ کہا جائے، $\pi = \frac{22}{7}$ استعمال کیجیے۔

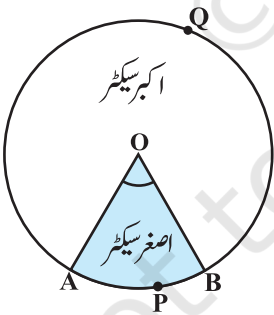
- دو دائروں کے نصف قطر بالترتیب 19 سینٹی میٹر اور 9 سینٹی میٹر ہیں۔ اس دائرہ کا نصف قطر معلوم کیجیے جس کا محیط ان دونوں دائروں کے محیط کے حاصل جمع کے برابر ہے۔



شکل 12.3

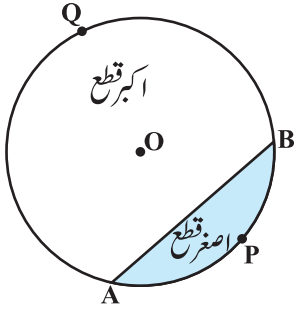
- 2- دو دائروں کے نصف قطر بالترتیب 8 سینٹی میٹر اور 6 سینٹی میٹر ہیں۔ اس دائرے کا نصف قطر معلوم کیجئے۔ جس کا رقبہ ان دونوں دائروں کے رقبوں کے حاصل جمع کے برابر ہو۔
- 3- شکل 12.3 میں تیر اندازی کا ایک مقررہ نشانہ دکھایا گیا ہے۔ جس میں اس کو کرنے کے 5 علاقہ ہیں جو مرکز سے اوپر کی جانب ہیں سنہرا، سرخ، نیلا، کالا اور سفید۔ اس خطہ کا قطر جو سنہرا کو ظاہر کرتا ہے۔ 21 سینٹی میٹر ہے اور ہر ایک خطہ 10.5 سینٹی میٹر چوڑا ہے۔ پانچواں اسکورنگ خطوں کا رقبہ معلوم کیجئے۔
- 4- کار کے ہر ایک پہیہ کا قطر 80 سینٹی میٹر ہے۔ جب کار 66 کلومیٹر فی گھنٹہ کی رفتار سے چل رہی ہو تو 10 منٹ میں کار کا ہر ایک پہیہ کتنے مکمل چکر لگائے گا۔
- 5- مندرجہ ذیل میں صحیح جواب پر (✓) کا نشان لگائیے اور اپنے انتخاب کا جواز پیش کیجئے اگر کسی دائرے کا احاطہ اور رقبہ عددی طور مساوی ہو تو تب دائرے کا نصف قطر ہوگا۔
- (A) 2 اکائیاں (B) π اکائیاں (C) 4 اکائیاں (C) 7 اکائیاں

12.3 دائرہ کا سیکٹر (Sector of a Circle) اور قطعہ دائرہ (Segment of a Circle)

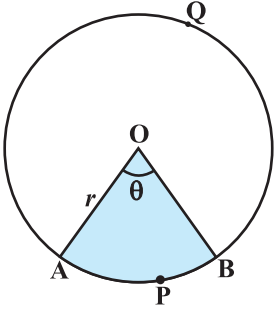


شکل 12.4

- اپنی پچھلی کلاسوں میں آپ دائرہ کے سیکٹر اور قطع سے پہلے ہی واقف ہو چکے ہیں یاد کیجئے کہ دائری خطہ کا وہ حصہ جو اس کے دو نصف قطر اور نظیری قوس سے گھرا ہوا ہو دائرہ کا سیکٹر کہلاتا ہے اور دائرہ خطہ کا وہ حصہ جو وتر اور اس کے نظیری قوس سے گرا ہوا ہو دائرہ کا قطع کہلاتا ہے۔ اس طرح سے شکل 12.4 میں شید کیا گیا خطہ OAPB، مرکز O والے دائرہ کا سیکٹر ہے۔ $\angle AOB$ سیکٹر کا زاویہ کہلاتا ہے۔ نوٹ کیجئے کہ اس شکل میں غیر سایہ دار خطہ OAOB بھی دائرہ کا سیکٹر ہے واضح وجوہات کی وجہ سے OAPB چھوٹا سیکٹر اور OAOB بڑا سیکٹر کہلاتا ہے۔ آپ یہ بھی دیکھ سکتے ہیں کہ بڑا سیکٹر کا زاویہ $\angle AOB - 360^\circ$ ہے۔
- اب شکل 12.5 دیکھتے ہیں جس میں AB، مرکز O والے دائرہ کا وتر ہے۔ اس لیے شید کیا گیا حصہ APB قطعہ دائرہ



شکل 12.5



شکل 12.6

(Segment of a Circle) ہے۔ آپ یہ بھی نوٹ کر سکتے ہیں کہ غیر سایہ دار حصہ AQB دائرہ APB اصغر قطع کا دوسرا قطع ہے۔ واضح وجوہات کی بنا پر AQB اکبر قطع کہلاتا ہے۔

ریمارک: جب ہم سیکٹر اور قطع لکھتے ہیں اس سے ہماری مراد بالترتیب صفر سیکٹر اور صفر قطع ہوتی ہے جب تک کہ اس کے برعکس نہ بیان کیا گیا ہو۔

اب اس معلومات کے ساتھ آئیے ان کے رقبہ معلوم کرنے کے لئے کچھ رشتہ (یا فارمولہ) معلوم کرتے ہیں مان لیجئے OAPB اس دائرہ کا سیکٹر ہے جس کا مرکز O اور نصف قطر r ہے۔ (شکل 12.6 دیکھیے) مان لیجیے $\angle AOB$ کی ڈگری پیمائش θ ہے۔

آپ جانتے ہیں کہ دائرہ کا رقبہ درحقیقت دائری خطہ یا طبق πr^2 ہوتا ہے

ایک طریقہ سے ہم اس دائری خطہ کو ایک سیکٹر مان سکتے ہیں جس کا مرکز O پر زاویہ 360° (یعنی ڈگری پیمائش 360° ہے) اب اکائی کے قاعدہ کا استعمال کرتے ہوئے ہم سیکٹر OAPB کے رقبہ تک ذیل میں دیے گئے طریقہ سے پہنچتے ہیں۔

جب زاویہ کی مرکز پر ڈگری پیمائش 360° ہے تو اس سیکٹر کا رقبہ $\pi r^2 =$

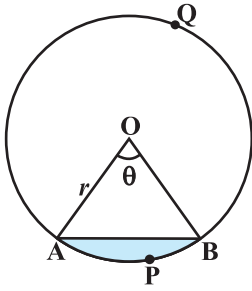
$$\frac{\pi r^2}{360^\circ} = \text{جب زاویہ کی مرکز پر ڈگری پیمائش 1 ہو تو سیکٹر کا رقبہ ہے۔}$$

$$\frac{\pi r^2}{360} \times \theta = \frac{\theta}{360} \times \pi r^2 \text{ ہو تو سیکٹر کا رقبہ}$$

اس طرح سے ہمیں مندرجہ ذیل رشتہ (فارمولہ) حاصل ہوتا ہے۔ جس سے ہم سیکٹر کا رقبہ معلوم کر سکتے ہیں۔

$$\theta = \frac{\theta}{360} \times \pi r^2 \text{ سیکٹر کا رقبہ}$$

جہاں r دائرہ کا نصف قطر اور θ ، ڈگری میں سیکٹر کا زاویہ اب قدرتی طور پر یہ سوال پیدا ہوتا ہے کہ کیا ہم اس سیکٹر کے نظیری



شکل 12.7

توس APB کی لمبائی معلوم کر سکتے ہیں؟ ہاں، دائرہ کی پوری لمبائی (360° کے زاویہ کی) کو $2\pi r$ لے کر دوبارہ θ اکائی کے قاعدہ کا استعمال کر کے ہمیں مطلوبہ توس APB کی لمبائی حاصل کر سکتے ہیں جو ہے

$$\theta = \frac{\theta}{360} \times 2\pi r$$

$$Q = \frac{\theta}{360} \times 2\pi r \text{ اس لئے زاویہ } \theta \text{ کے سیکٹر کے توس کی لمبائی}$$

آئیے اب مرکز O اور نصف قطر r والے دائرہ کے قطع APB کے رقبہ پر غور کرتے ہیں۔ شکل 12.7 پر غور کیجیے۔ آپ دیکھتے ہیں کہ

$$\begin{aligned} \Delta OAB \text{ کا رقبہ} &= \text{سیکٹر OAPB کا رقبہ} - \text{قطع APB کا رقبہ} \\ &= \frac{\theta}{360} \times \pi r^2 - \text{قطع APB کا رقبہ} \end{aligned}$$

نوٹ: شکل 12.7 اور 12.6 میں بالترتیب آپ شاید معلوم کر سکتے ہیں کہ

$$\text{بڑا سیکٹر OAOQB کا رقبہ} = \pi r^2 - \text{چھوٹا سیکٹر کا رقبہ}$$

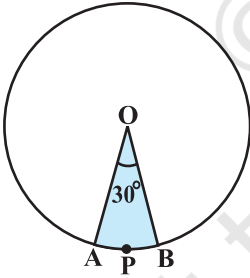
$$\text{اور بڑا قطع AQB کا رقبہ} = \pi r^2 - \text{چھوٹا قطع APB کا رقبہ}$$

آئے ان تصورات کو سمجھنے کے لئے کچھ مثالوں پر غور کرتے ہیں۔

مثال 2: دائرہ کا سیکٹر کا رقبہ معلوم کیجیے جس کا نصف قطر 4 سینٹی میٹر اور

زاویہ 30° ہے۔ مزید اس کے نظیری اکبر سیکٹر کا رقبہ بھی معلوم کیجیے۔

$$(\pi = 3.14 \text{ لیجئے})$$



شکل 12.8

حل: دیا ہوا سیکٹر OAPB ہے (شکل 12.8 دیکھیے)

$$\text{سیکٹر کا رقبہ} = \frac{\theta}{360} \times \pi r^2$$

$$= \frac{30}{360} \times 3.14 \times 4 \times 4 \text{ cm}^2$$

$$= \frac{12.56}{3} \text{ cm}^2 = 4.19 \text{ cm}^2 \text{ (تقریباً)}$$

دیئے ہوئے بڑے سیکٹر کا رقبہ

$$= \pi r^2 \text{ سیکٹر OAPB کا رقبہ}$$

$$= (3.14 \times 16 - 4.19) \text{ مربع سینٹی میٹر}$$

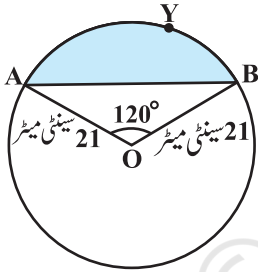
$$= 46.05 \text{ مربع سینٹی میٹر} = 46.1 \text{ (تقریباً)}$$

$$\text{متبادل طور پر} = \frac{(360 - \theta)}{360} \times \pi r^2 = \text{بڑے سیکٹر کا رقبہ}$$

$$= \left(\frac{360 - 30}{360} \right) \times 3.14 \times 16 \text{ مربع سینٹی میٹر}$$

$$= \frac{330}{360} \times 3.14 \times 16 \text{ مربع سینٹی میٹر} = 46.05 \text{ مربع سینٹی میٹر}$$

$$= 46.1 \text{ cm}^2 \text{ (تقریباً)}$$



شکل 12.9

مثال 3: شکل 12.9 میں دکھائے گئے قطع OAYB کا رقبہ معلوم کیجیے اگر دائرہ

$$\text{کا نصف قطر } 21 \text{ سینٹی میٹر اور } \angle AOB = 120^\circ \left(\pi = \frac{22}{7} \text{ لیجیے} \right)$$

حل: ΔOAB کا رقبہ - سیکٹر OAYB = قطع OAYB کا رقبہ

$$\text{اب مربع سینٹی میٹر } 462 = \text{مربع سینٹی میٹر } \frac{120}{360} \times \frac{22}{7} \times 21 \times 21 \text{ سیکٹر OAYB کا رقبہ}$$

ΔOAB کا رقبہ معلوم کرنے کے لئے $OM \perp AB$ کیجئے جیسا کہ شکل 12.10 میں دکھایا گیا ہے۔ نوٹ کیجیے کہ $OA = OB$ ،

اس لئے RHS متماثلت سے $\Delta AMO \cong \Delta BMO$

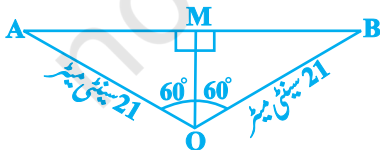
$$\text{اس لئے } \angle AOM = \angle BOM = \frac{1}{2} \times 120^\circ = 60^\circ \text{ اور } AB, M \text{ کا وسطی نقطہ ہے}$$

مان لیجیے مربع سینٹی میٹر $OM = x$

$$\text{اس لئے } \Delta OMA \text{ سے } \frac{OM}{OA} = \cos 60^\circ$$

$$\text{یا } \frac{x}{21} = \frac{1}{2} \left(\cos 60^\circ = \frac{1}{2} \right)$$

$$\text{یا } x = \frac{21}{2}$$



شکل 12.10

$$OM = \frac{21}{2} \text{ اس لئے سینٹی میٹر}$$

$$\frac{AM}{OA} = \sin 60^\circ = \frac{\sqrt{3}}{2} \text{ مزید}$$

$$AM = \frac{21\sqrt{3}}{2} \text{ اس لئے سینٹی میٹر}$$

$$AB = 2AM = \frac{2 \times 21\sqrt{3}}{2} \text{ cm} = 21\sqrt{3} \text{ سینٹی میٹر}$$

$$\begin{aligned} \text{اس لئے مربع سینٹی میٹر } \Delta OAB &= \frac{1}{2} AB \times OM = \frac{1}{2} \times 21\sqrt{3} \times \frac{21}{2} \\ &= \frac{441}{4} \sqrt{3} \text{ سینٹی میٹر} \end{aligned}$$


$$\begin{aligned} \text{اس لئے مربع سینٹی میٹر } \text{قطع AYB کا رقبہ} &= \left(462 - \frac{441}{4} \sqrt{3} \right) \\ &[(1), (2) \text{ اور } (3) \text{ ہے}] \end{aligned}$$

$$= \frac{21}{4} (88 - 21\sqrt{3}) \text{ مربع سینٹی میٹر}$$

مشق 12.2

جب تک کچھ اور نہ کیا جائے، $\pi = \frac{22}{7}$ استعمال کیجیے۔


- 1- دائرے کے سیکٹر کا رقبہ معلوم کیجیے اگر اس کا نصف قطر 6 سینٹی میٹر ہو اور سیکٹر کا زاویہ 60° ہو۔
- 2- دائرہ کے ربع کا رقبہ معلوم کیجیے جس کا محیط 22 سینٹی میٹر ہے۔
- 3- ایک گھڑی کی منٹ کی سوئی کی لمبائی 14 سینٹی میٹر ہے۔ 5 منٹ میں اس سوئی کے ذرائع طے کیا گیا رقبہ معلوم کیجیے۔
- 4- 10 نصف قطر کے ایک دائرہ کا وتر مرکز پر قائم زاویہ بناتا ہے۔ اس کے نظیری ان کے (i) چھوٹا قطع (ii) بڑا سیکٹر کا رقبہ معلوم کیجیے۔
- 5- 21 سینٹی میٹر نصف قطر والے دائرہ میں ایک قوس مرکز پر 60° کا زاویہ بناتا ہے۔ معلوم کیجیے۔
(i) قوس کی لمبائی (ii) قوس کے ذریعے بنے سیکٹر کا رقبہ (iii) نظیری وتر سے بنے قطع کا رقبہ۔
- 6- 15 سینٹی میٹر نصف قطر کا ایک دائرہ مرکز پر 60° کا ایک زاویہ بناتا ہے، دائرہ کے نظیری چھوٹے اور بڑے قطع کا رقبہ معلوم کیجیے۔
($\pi = 3.14$ استعمال کیجیے اور $\sqrt{3} = 1.73$)
- 7- سینٹی میٹر 12 نصف قطر کا ایک دائرہ کا ایک وتر مرکز پر 120° کا زاویہ بناتا ہے دائرہ کے نظیری قطع کا رقبہ معلوم کیجیے۔
($\pi = 3.14$ اور $\sqrt{3} = 1.73$ لیجئے)



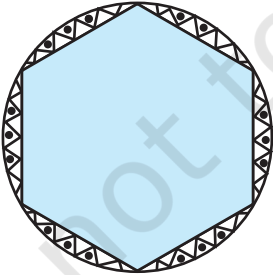
شکل 12.11



شکل 12.12



شکل 12.13



شکل 12.14

8- گھاس کے ایک مربع نما میدان کے ایک کونے میں ایک گھوڑا 5 سینٹی میٹر لمبی رسی سے بندھا ہوا ہے (شکل 12.11 دیکھئے) اگر (i) میدان کا ضلع 15 سینٹی میٹر ہو تو میدان کا وہ رقبہ معلوم کیجیے جہاں گھوڑا گھاس چر سکتا ہے۔
(ii) اگر اس کی رسی 5 سینٹی میٹر کے بجائے 10 سینٹی میٹر کر دی جاتی تو کتنے زیادہ رقبہ پر گھاس چر سکے گا۔

9- ایک بروج 35 ملی میٹر قطر والے دائرے کی شکل کے ایک چاندی کے تار سے بنایا گیا ہے۔ اس تار کا استعمال 5 قطروں کے بنانے میں بھی ہوا ہے جو دائرہ کو 10 مساوی سیکٹروں میں تقسیم کرتے ہیں جیسا کہ شکل 12.12 میں دکھایا گیا ہے۔ معلوم کیجیے:
(i) چاندی کے تار کی کل کتنی لمبائی درکار ہے اور
(ii) بروج کے ہر ایک سیکٹر کا رقبہ۔

10- ایک چھتری میں مساوی فاصلوں پر 8 تیلیاں لگی ہوئی ہیں۔ شکل 12.13 دیکھئے) یہ فرض کرتے ہوئے کہ چھتری 45 سینٹی میٹر نصف قطر کا ایک ہموار دائرہ ہو تو دو لگا تار تیلیوں کے درمیان کا رقبہ معلوم کیجیے۔

11- ایک کار کے دو واہر ہیں جو ایک دوسرے کو کبھی نہیں چھوتے۔ ہرواہر کا بلیڈ 25 سینٹی میٹر لمبا ہے اور وہ 115° کے زاویہ پر صفائی کرتا ہے۔ بلیڈ کے ہر بار گھومنے میں کتنا رقبہ صاف ہوتا ہے۔

12- پانی کے نیچے ایک چٹان کی موجودگی سے جہاز کو متنبہ کرنے کے لئے ایک روشنی کے مینار نے 80° کے سیکٹر زاویہ پر 16.5 کلومیٹر کے فاصلہ تک لال رنگ کی روشنی پھیلانی۔ سمندر کا وہ رقبہ معلوم کیجئے جہاں پر جانے کے لئے پانی کے جہاز کو متنبہ کی گئی تھی۔ ($\pi=3.14$ استعمال کیجیے)

13- ایک گول میٹر پوش میں 6 مساوی ڈیزائن بنے ہوئے ہیں جب کہ شکل 12.14 میں دکھایا گیا ہے۔ اگر میز پوش کا نصف قطر

قطر 28 میٹر ہو تو مربع سینٹی میٹر 0.35 روپے کی شرح سے اس پر ڈیزائن بنانے کا خرچ معلوم کیجیے۔

$$\sqrt{3} = 1.7 \text{ (استعمال کیجیے)۔}$$

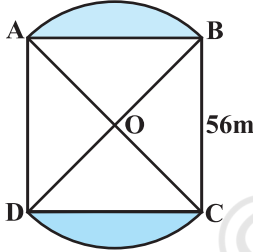
14۔ مندرجہ ذیل میں صحیح جواب کو ٹک کیجیے۔

R نصف قطر والے ایک دائرہ کے سیکٹر کا زاویہ P (ڈگری میں) ہے سیکٹر کا رقبہ

(A) $\frac{p}{180} \times 2\pi R$ (B) $\frac{p}{180} \times \pi R^2$ (C) $\frac{p}{360} \times 2\pi R$ (D) $\frac{p}{720} \times 2\pi R^2$

12.4 مستوی شکلوں کے اجماع (Combinations) کا رقبہ

اب تک ہم نے مختلف شکلوں کا رقبہ علیحدہ علیحدہ نکالا ہے۔ آئیے اب مستوی شکلوں کے اجماع کا رقبہ معلوم کرنے کی کوشش کرتے ہیں۔ ہم روزمرہ کی زندگی میں ایسی بہت سے شکلیں دیکھتے ہیں خاص طور سے دلچسپ ڈیزائنوں میں، پھولوں کی کیاری، نالہ کے ڈھکن، کھڑکی کے ڈیزائن، میز پوش کے ڈیزائن، ایسی کچھ مثالیں ہیں۔ اس طرح کی شکلوں کے رقبہ معلوم کرنے کے عمل کی ہم کچھ مثالوں سے وضاحت کرتے ہیں۔



شکل 12.15

مثال 4: شکل 12.15 میں 6 سینٹی میٹر ضلع والے ایک مربع لان کے دو اضلاع پر دو دائری پھولوں کی کیاریاں دکھائی گئی ہیں۔ اگر ہر ایک دائری پھولوں کی کیاری کا مرکز مربع کے وتروں کا نقطہ تقاطع ہے تو لان اور پھولوں کی کیاریوں کے رقبہ کا حاصل جمع معلوم کیجیے۔

(1) **حل:** $56 \times 56 \text{ m}^2 = \text{مربع لان ABCD کا رقبہ} =$

مان لیجئے میٹر $x = OA = OB$

اس لئے $x^2 + x^2 = 56^2$

(2) یا $x^2 = 28 \times 56$ یا $2x^2 = 56 \times 56$

اب $\text{سیکٹر OAB کا رقبہ} = \frac{90}{360} \times \pi x^2 = \frac{1}{4} \times \pi x^2$

(3) مربع میٹر $28 \times 56 = \frac{1}{4} \times \frac{22}{7} \times [2, \text{ سے}]$

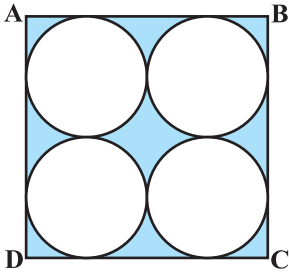
(4) مزید $\Delta OAB = \frac{1}{4} \times 56 \times 56 \text{ m}^2 (\angle AOB = 90^\circ)$ کا رقبہ

$$\begin{aligned} \text{اس لئے } m^2 &= \left(\frac{1}{4} \times \frac{22}{7} \times 28 \times 56 - \frac{1}{4} \times 56 \times 56 \right) \\ &= \frac{1}{4} \times 28 \times 56 \left(\frac{22}{7} - 2 \right) \\ &= \frac{1}{4} \times 28 \times 56 \times \frac{8}{7} \end{aligned}$$

(5)

$$(6) \quad \frac{1}{4} \times 28 \times 56 \times \frac{8}{7} = \text{اسی طرح سے دوسری کیماری کا رقبہ مربع میٹر}$$

$$[(1), (5) \text{ اور } (6) \text{ سے }] \quad \left(56 \times 56 + \frac{1}{4} \times 28 \times 56 \times \frac{8}{7} \right)$$



شکل 12.16

$$\begin{aligned} &= 28 \times 56 \left(2 + \frac{2}{7} + \frac{2}{7} \right) \\ &= 28 \times 56 \times \frac{18}{7} \text{ m}^2 = 4032 \end{aligned}$$

متبادل حل: کل رقبہ = سیکٹر OAB کا رقبہ + سیکٹر ODC کا رقبہ

$$\begin{aligned} &\Delta OAD + \Delta OBC \text{ کا رقبہ} + \\ &= \left(\frac{90}{360} \times \frac{22}{7} \times 28 \times 56 + \frac{90}{360} \times \frac{22}{7} \times 28 \times 56 \right. \\ &\quad \left. + \frac{1}{4} \times 56 \times 56 + \frac{1}{4} \times 56 \times 56 \right) \\ &= \frac{1}{4} \times 28 \times 56 \left(\frac{22}{7} + \frac{22}{7} + 2 + 2 \right) \end{aligned}$$

$$= \frac{7 \times 56}{7} (22 + 22 + 14 + 14) \text{ مربع میٹر}$$

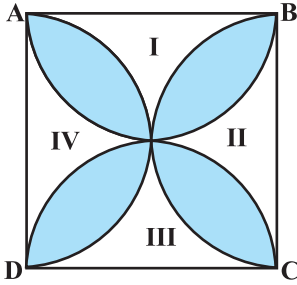
$$= 56 \times 72 \text{ مربع میٹر} = 4032$$

مثال 5: شکل 12.6 کے سائے دار خطہ کا رقبہ معلوم کیجیے جہاں ADCB، 14 سینٹی میٹر ضلع کا ایک مربع ہے۔

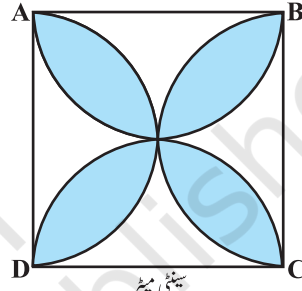
حل: مربع ABCD کا رقبہ مربع میٹر 196، مربع سینٹی میٹر 14×14 ، دائرہ کا ہر ایک قطر سینٹی میٹر 7 = سینٹی میٹر $\frac{14}{2}$

$$\text{اس لئے دائرہ کا نصف قطر سینٹی میٹر } \frac{7}{2}, \text{ اس لئے ایک دائرہ کا رقبہ} = \text{مربع سینٹی میٹر } \frac{7}{2} \times \frac{7}{2} = \pi r^2$$

$\frac{7}{2} = \frac{154}{4}$ میٹر = $\frac{77}{2}$ میٹر = مربع سینٹی میٹر
 اس لئے چار دائروں کا رقبہ = مربع سینٹی میٹر = $4 \times \frac{77}{2}$
 اس طرح سائے دار خطہ کا رقبہ = مربع سینٹی میٹر = $42 = 154 - 106$
مثال 6: شکل 12.17 کے سائے دار ڈیزائن کا رقبہ معلوم کیجیے جہاں ABCD، 10 سینٹی میٹر اضلاع والا ایک مربع ہے۔ اس کے ہر ضلع کو قطر مان کر نصف دائرہ بنائے گئے ہیں۔ ($\pi = 3.14$ استعمال کیجیے)



شکل 12.18



شکل 12.17

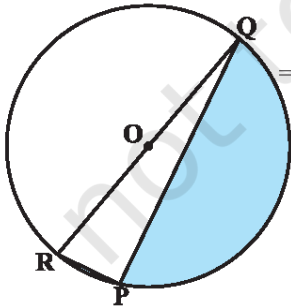
حل: غیر سائے دار خطوں I، II، III، اور IV نشان زدہ کیجیے (شکل 12.18 دیکھئے)
 5 سینٹی میٹر نصف قطر والے دو نصف دائروں کا رقبہ - ABCD کا رقبہ = III کا رقبہ + I کا رقبہ
 مربع سینٹی میٹر = $21.5 = 100 - 78.5$ = مربع سینٹی میٹر = $(100 - 3.14) \times 25$ = مربع سینٹی میٹر
 $= \left(10 \times 10 - 2 \times \frac{1}{2} \times \pi \times 5^2 \right)$

اسی طرح سے $IV + II = 21.5 \text{ cm}^2$ کا رقبہ

مربع سینٹی میٹر = $57 = 100 - 43$ = مربع سینٹی میٹر = $(100 - 2 \times 21.5)$ = مربع سینٹی میٹر
 = $(100 - 43)$ = مربع سینٹی میٹر = $(100 - 2 \times 21.5)$ = مربع سینٹی میٹر

مشق 12.3

جب تک کچھ اور بیان نہ کیا جائے، $\pi = \frac{22}{7}$ لیجیے۔

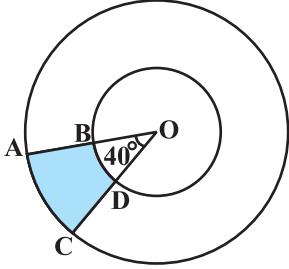


شکل 12.19

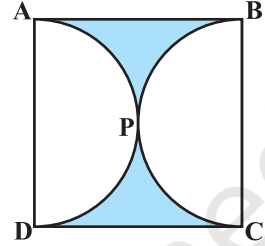
1- شکل 12.19 میں سائے دار خطہ کا رقبہ معلوم کیجیے اگر $PQ = 24$ ، $PR = 7$ اور O

دائرہ کا مرکز ہے۔

2- شکل 12.20 میں سائے دار خطہ کا رقبہ معلوم کیجیے اگر دوہم مرکز دائروں، جن کا مرکز O ہے، کے نصف قطر بالترتیب 7 سینٹی میٹر اور 14 سینٹی میٹر ہیں اور $\angle AOC = 40^\circ$ ۔

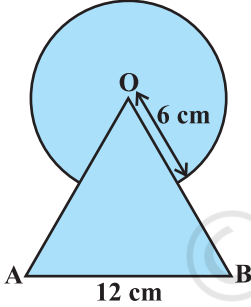


شکل 12.20

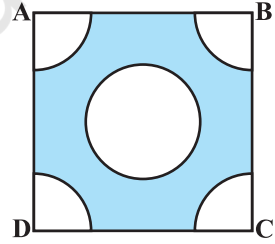


شکل 12.21

3- شکل 12.11 میں سائے دار خطہ کا رقبہ معلوم کیجیے اگر ABCD ایک مربع ہے جس کا اضلاع 14 سینٹی میٹر اور APD اور BPC نصف دائرہ ہے۔



شکل 12.23



شکل 12.22

4- شکل 12.22 میں سائے دار خطہ کا رقبہ معلوم کیجیے۔ جہاں 12 سینٹی میٹر والے مساوی ضلعی مثلث کے OAB کے راس O کو مرکز مان کر 6 سینٹی میٹر نصف قطر کا ایک دائرہ قوس کھینچا گیا ہے۔

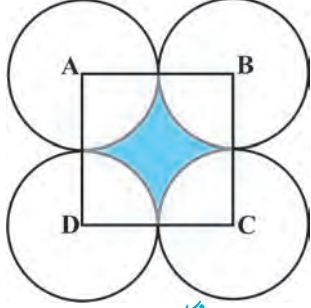


شکل 12.24

5- 4 سینٹی میٹر ضلع والے مربع کے ہر ایک کونے سے 1 سینٹی میٹر نصف قطر کا دائرہ کا ایک رقع کاٹا گیا، اور 2 سینٹی میٹر قطر کا ایک دائرہ بھی کاٹا گیا جیسے کی شکل 12.23 میں دکھایا گیا ہے۔ مربع کے باقی حصہ کا رقبہ معلوم کیجیے۔

6- ایک دائری میز پوش کا نصف قطر 32 سینٹی میٹر ہے۔ اس کے بیچ میں ایک مساوی

ضلعی مثلث ABC کو چھوڑ کر باقی حصہ پر ایک ڈیزائن بنایا گیا ہے جیسا شکل 12.24 میں دکھایا گیا ہے۔ سائے دار



شکل 12.25


ڈیزائن خطہ کا رقبہ معلوم کیجیے۔

7- شکل 12.25 میں ABCD ایک مربع ہے جس ضلع 14 سینٹی میٹر کا ہے۔ C, B, A اور D کو مرکز مان کر چار دائرے اس طرح بنائے گئے کہ ہر دائرہ باقی دائروں میں

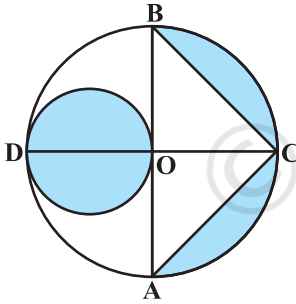
سے 2 کو خارجی طور پر چھوٹا سائے دار خطہ کا رقبہ معلوم کیجیے۔

8- شکل 12.26 میں ریس کا کاٹریک دکھایا گیا ہے جس کے دائیں اور بائیں کے سرے

نصف دائرہ ہیں۔



شکل 12.26



شکل 12.27

دو اندرونی متوازی خطوط کے درمیان کا فاصلہ 60 میٹر کا ہے اور ان میں ہر ایک

106 میٹر لمبا ہے۔ اگر ٹریک کی چوڑائی 10 میٹر ہے تو

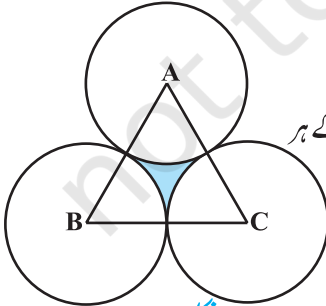
(i) اس کے داخلی کنارے کے چاروں طرف کا رقبہ معلوم کیجیے۔

(ii) ٹریک کا رقبہ معلوم کیجیے۔

9- شکل 12.27 میں AB اور C ایک دائرہ (جس کا مرکزہ ہے) کے دو عمودی قطر

ہیں اور OD چھوٹے دائرہ کا قطر ہے اگر OA = 7 سینٹی میٹر، تو سائے دار خطہ

کا رقبہ معلوم کیجیے۔



شکل 12.28

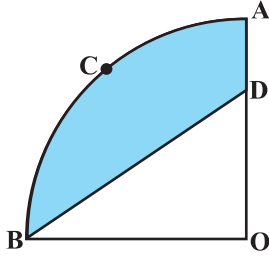
10- ایک مساوی ضلعی مثلث ABC کا رقبہ 17320.5 مربع سینٹی میٹر ہے۔ اس کے ہر

ایک راس کو مرکز مان کر اور مثلث کے ضلع کے آدھا ہی لمبائی کا نصف قطر لے کر

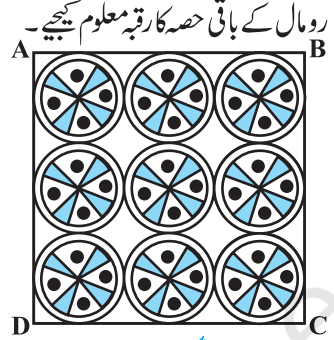
دائرہ بنائے گئے (شکل 12.28 دیکھیے)

سائے دار خطہ کا رقبہ معلوم کیجیے ($\pi = 3.14$ اور $\sqrt{3} = 1.73205$ لیجیے۔)

11- ایک مربع کی شکل کے ڈیزائن میں 7 سینٹی میٹر نصف قطر کے 9 دائری ڈیزائن بنے ہوئے ہیں۔ (شکل 12.29 دیکھیے۔)



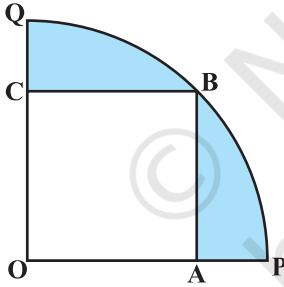
شکل 12.30



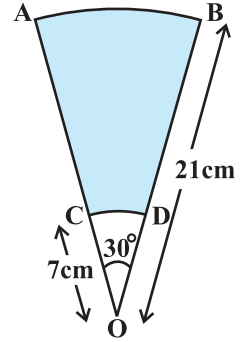
شکل 12.29

12- شکل 12.30 میں، مربع ہے جس کا مرکز O ہے۔ اس کا نصف قطر 3.5 سینٹی میٹر ہے اگر $OD = 2$ سینٹی میٹر تو (i) مربع OACB کا رقبہ (ii) سائے دار خطہ کا رقبہ معلوم کیجیے۔

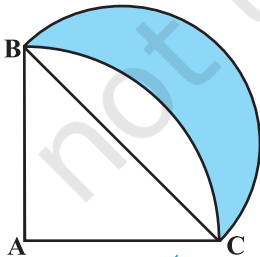
13- شکل 12.31 میں ایک مربع OABC ہے جو ایک دائری مربع OPBQ کے اندر بنا ہوا ہے۔ اگر $OA = 20$ سینٹی میٹر تو سائے دار خطہ کا رقبہ معلوم کیجیے۔ ($\pi = 3.14$ استعمال کیجیے)



شکل 12.31



شکل 12.32



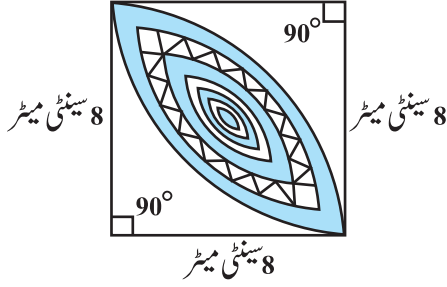
شکل 12.33

14- AB اور CD بالترتیب دو ہم مرکزہ دائروں جن کے نصف قطر 21 سینٹی میٹر اور 7 سینٹی میٹر ہیں اور مرکز O ہے۔ کے قوس ہیں (شکل 12.32 دیکھئے) اگر $\angle AOB = 30^\circ$ ۔ تو سائے دار خطہ کا رقبہ معلوم کیجیے۔

15- شکل 12.33 میں ABC، 14 سینٹی میٹر نصف قطر والے دائرہ کا ایک مربع ہے۔ BC قطر لے کر ایک نصف دائرہ بنایا گیا۔ سائے دار خطہ کا رقبہ معلوم کیجیے۔

16- شکل 12.34 میں ڈیزائن والے خطہ کا رقبہ معلوم کیجیے۔ جو 8 سینٹی میٹر نصف قطر

والے دائروں کے دوربجات میں مشرک ہے۔



شکل 12.34

12.5 خلاصہ

اس باب میں آپ نے مندرجہ ذیل باتیں سیکھیں:

1- دائرہ کا محیط $2\pi r$

2- دائرہ کا رقبہ πr^2

3- ایک دائرہ کے سیکٹر کے قوس کی لمبائی جس کا نصف قطر r اور زاویہ کی ڈگری پیمائش θ ہے $-\frac{\theta}{360} \times 2\pi r$

4- ایک دائرہ کے سیکٹر کا رقبہ جس کا نصف قطر r اور ڈگری پیمائش θ ہو ہے $-\frac{\theta}{360} \times \pi r^2$

5- دائرہ کے قطع کا رقبہ = نظیری مثلث کا رقبہ - نظیری سیکٹر کا رقبہ